



AGRUPAMENTO DE ESCOLAS DA QUINTA DO CONDE
Escola Básica Integrada da Quinta do Conde



Professora Sofia Almeida
Ano letivo 2014/2015

Nome: _____

Data: _____




Problemas...

O pai da Eva colocou cinco maçãs numa fruteira. A Eva comeu duas maçãs.
Quantas maçãs ficaram na fruteira? Mostra como pensaste.

R.: Na fruteira ficaram _____ maçãs.

O Ivo tem duas bicicletas e um triciclo na sua garagem. O Ivo contou as rodas.
Quantas rodas contou? Mostra como pensaste.



R.: Contou _____ rodas.



AGRUPAMENTO DE ESCOLAS DA QUINTA DO CONDE
Escola Básica Integrada da Quinta do Conde





Professora Sofia Almeida
Ano letivo 2014/2015



Nome: _____

Data: _____



Quantos pontos?


O pai da Eva lançou os dados e obteve  e  .

A Eva lançou os dados e obteve  e  .
Quem obteve mais pontos?


R.: Quem obteve mais pontos foi _____.

Quantos pontos obteve:


Ivo



tio



tia



avô

