



AGRUPAMENTO DE ESCOLAS DA QUINTA DO CONDE
Escola Básica Integrada da Quinta do Conde



Professora Sofia Almeida
Ano letivo 2014 /2015

Nome: _____



Data: _____



Problemas...



A Patrícia colocou 5 rebuçados num saco.
Quantos rebuçados colocará em 5 sacos iguais?

Completar a tabela:

	1	2	3	4	5
	5				

O casaco da professora tem 4 botões.
Quantos botões terão 5 casacos iguais ao da professora?

Completar a tabela:

	1	2	3	4	5
	4				



AGRUPAMENTO DE ESCOLAS DA QUINTA DO CONDE
Escola Básica Integrada da Quinta do Conde



Professora Sofia Almeida
Ano letivo 2014 /2015

Nome: _____



Data: _____



Problemas...



A Patrícia colocou 5 rebuçados num saco.
Quantos rebuçados colocará em 5 sacos iguais?

Completar a tabela:

	1	2	3	4	5
	5				

O casaco da professora tem 4 botões.
Quantos botões terão 5 casacos iguais ao da professora?

Completar a tabela:

	1	2	3	4	5
	4				