



AGRUPAMENTO DE ESCOLAS DA QUINTA DO CONDE  
Escola Básica Integrada da Quinta do Conde

Nome: \_\_\_\_\_

Data: \_\_\_\_\_





Professora Sofia Almeida  
Ano letivo 2014/2015



Problemas...

A Carochinha colocou 4 maçãs numa caixa.  
Quantas maçãs colocará em 5 caixas iguais?

Completar a tabela:

	1	2	3	4	5
	4				

O João Ratão espreitou para dentro do caldeirão.  
Lá dentro, ele viu 4 batatas, 5 nabos, 1 cebola e 2 couves.  
Quantos legumes viu o João Ratão dentro do caldeirão?

O João Ratão viu \_\_\_\_\_ legumes dentro do caldeirão.



AGRUPAMENTO DE ESCOLAS DA QUINTA DO CONDE  
Escola Básica Integrada da Quinta do Conde

Nome: \_\_\_\_\_

Data: \_\_\_\_\_



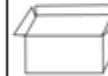

Professora Sofia Almeida  
Ano letivo 2014/2015



Problemas...

A Carochinha colocou 4 maçãs numa caixa.  
Quantas maçãs colocará em 5 caixas iguais?

Completar a tabela:

	1	2	3	4	5
	4				

O João Ratão espreitou para dentro do caldeirão.  
Lá dentro, ele viu 4 batatas, 5 nabos, 1 cebola e 2 couves.  
Quantos legumes viu o João Ratão dentro do caldeirão?

O João Ratão viu \_\_\_\_\_ legumes dentro do caldeirão.