



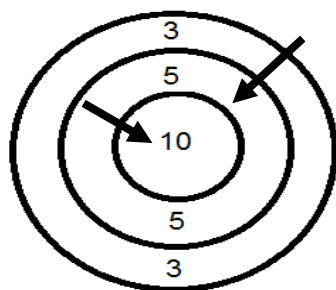
Nome: \_\_\_\_\_

Data: \_\_\_\_\_

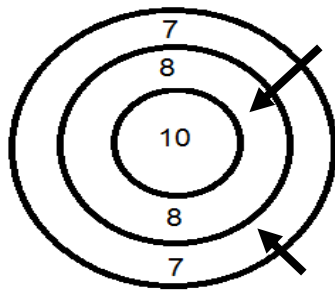


Professora Sofia Almeida  
Ano letivo 2014 /2015

1. Observa os lançamentos e completa.



\_\_\_\_ + \_\_\_\_ = \_\_\_\_  
O João fez \_\_\_\_ pontos.



\_\_\_\_ + \_\_\_\_ = \_\_\_\_  
O Simão fez \_\_\_\_ pontos.

- Quem fez mais pontos? Foi o \_\_\_\_\_.

2. A professora perguntou aos meninos da sua turma quantos animais de estimação tinham e registou numa tabela. Observa-a.

| animais | 0 | 1 | 2 | 3 | 4 |
|---------|---|---|---|---|---|
| alunos  | 6 | 7 | 5 | 3 | 0 |

2.1. Quantos alunos têm 3 animais de estimação? \_\_\_\_\_

2.2. Quantos alunos têm 1 animal de estimação? \_\_\_\_\_

2.3. Quantos alunos tem a turma da professora? \_\_\_\_\_  
Explica como pensaste.

2.4. Quantos animais de estimação têm, ao todo, os alunos desta turma? \_\_\_\_\_  
Explica como pensaste.



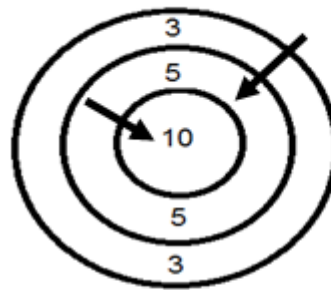
Nome: \_\_\_\_\_

Data: \_\_\_\_\_

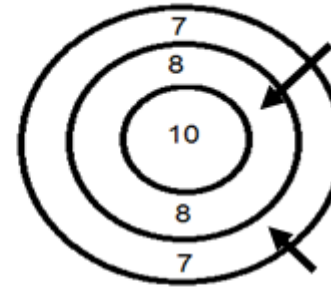


Professora Sofia Almeida  
Ano letivo 2014 /2015

1. Observa os lançamentos e completa.



\_\_\_\_ + \_\_\_\_ = \_\_\_\_  
O João fez \_\_\_\_ pontos.



\_\_\_\_ + \_\_\_\_ = \_\_\_\_  
O Simão fez \_\_\_\_ pontos.

- Quem fez mais pontos? Foi o \_\_\_\_\_.

2. A professora perguntou aos meninos da sua turma quantos animais de estimação tinham e registou numa tabela. Observa-a.

| animais | 0 | 1 | 2 | 3 | 4 |
|---------|---|---|---|---|---|
| alunos  | 6 | 7 | 5 | 3 | 0 |

2.1. Quantos alunos têm 3 animais de estimação? \_\_\_\_\_

2.2. Quantos alunos têm 1 animal de estimação? \_\_\_\_\_

2.3. Quantos alunos tem a turma da professora? \_\_\_\_\_  
Explica como pensaste.

2.4. Quantos animais de estimação têm, ao todo, os alunos desta turma? \_\_\_\_\_  
Explica como pensaste.