



AGRUPAMENTO DE ESCOLAS DA QUINTA DO CONDE
Escola Básica Integrada da Quinta do Conde

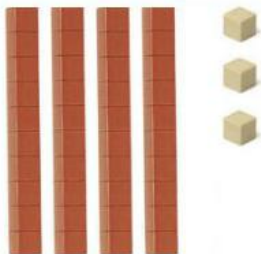
Nome: _____

Data: _____



Professora Sofia Almeida
Ano letivo 2014/2015


- Observa e completa.



$$10 + 10 + 10 + 10 + 3 = \underline{\hspace{2cm}}$$

_____ dezenas


_____ unidades



$$\underline{\hspace{2cm}} = \underline{\hspace{2cm}}$$

_____ dezenas


_____ unidades



$$\underline{\hspace{2cm}} = \underline{\hspace{2cm}}$$

_____ dezenas

_____ unidades



$$\underline{\hspace{2cm}} = \underline{\hspace{2cm}}$$

_____ dezenas

_____ unidades



AGRUPAMENTO DE ESCOLAS DA QUINTA DO CONDE
Escola Básica Integrada da Quinta do Conde

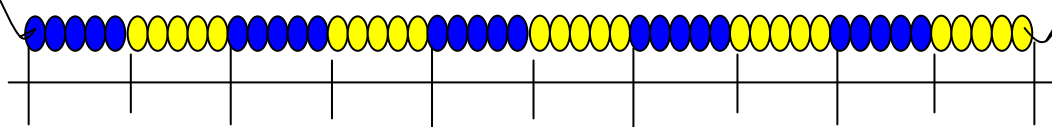
Nome: _____

Data: _____



Professora Sofia Almeida
Ano letivo 2014/2015

- Escreve os números na reta numérica.



- Completa com o número anterior e/ou o número seguinte:

	6	
	10	
	29	

43		
	39	
48		50

- Conta:

DE 5 EM 5:

5	10								
---	----	--	--	--	--	--	--	--	--

DE 10 EM 10:

0	10				
---	----	--	--	--	--

- Escreve os números por ordem decrescente:

14 29 37 50 44 0 19 49

___ > ___ > ___ > ___ > ___ > ___ > ___