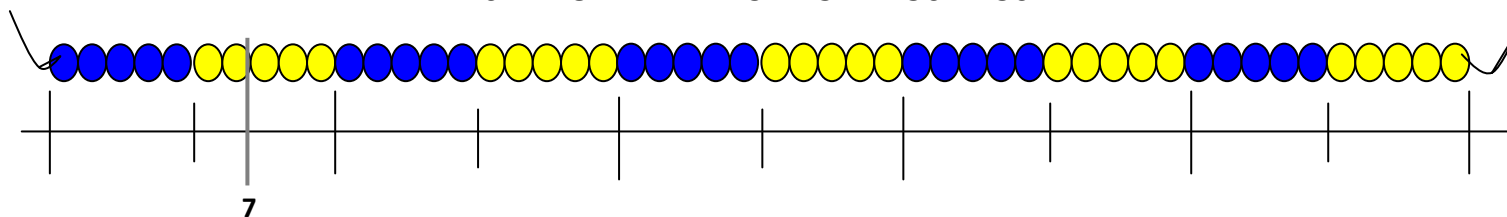




Nome: _____ Data: _____

1. Segue o exemplo e localiza, no colar de contas, os seguintes números:

7 16 18 27 29 31 36 50



2. Completa com o número anterior e/ou o número seguinte:

	35	
	49	
	60	

75		
	89	
98		

3. Escreve os números por ordem crescente.

32	41	7	44	63	80	68				
<input type="text"/>	<	<input type="text"/>	<	<input type="text"/>	<	<input type="text"/>	<	<input type="text"/>	<	<input type="text"/>

4. Escreve os números por ordem decrescente.

35	60	67	49	84	0	90				
<input type="text"/>	>	<input type="text"/>	>	<input type="text"/>	>	<input type="text"/>	>	<input type="text"/>	>	<input type="text"/>

5. Observa e completa:

5	10			25			40										
---	----	--	--	----	--	--	----	--	--	--	--	--	--	--	--	--	--

0	10			40							
---	----	--	--	----	--	--	--	--	--	--	--


6. Efetua os cálculos.

$36 + 23 = \dots$	
$58 + 21 = \dots$	
$59 - 35 = \dots$	
$86 - 24 = \dots$	



Nome: _____ Data: _____

7. Observa o pictograma, onde estão representados os clubes de futebol preferidos dos colegas do



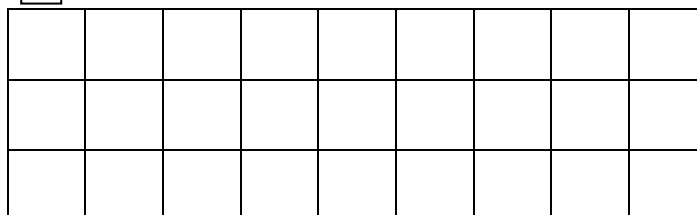
7.1. Qual foi o clube mais vezes preferido? _____

7.2. Qual o clube com menos votos? _____

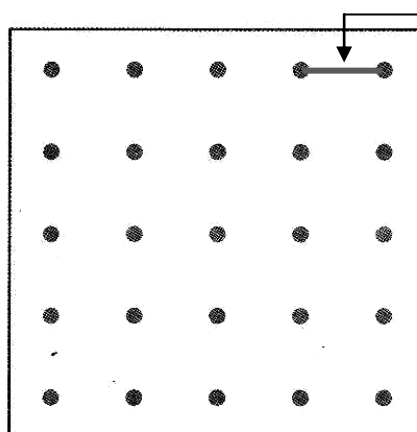
7.3. Qual o total de alunos que respondeu a este inquérito? _____

Explica como pensaste.

8. Pinta uma figura com 8 ☐ de área.



9. No papel pontado, representa uma **linha poligonal aberta** com 7 unidades de comprimento.



unidade de medida
de comprimento